

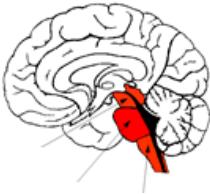
# Q1 – Die Architektur des Gehirns - Seitenansicht Mitte

Aufgabe:

Beschreiben Sie folgende Bilder mit Hilfe der Schulbuchseiten 130/131. Nennen Sie die jeweils wichtigste Funktion der beschriebenen Struktur.

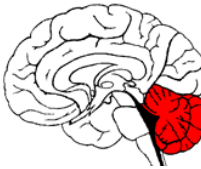
## Hirnstamm/ Stammhirn

Beschreibung / Funktion:



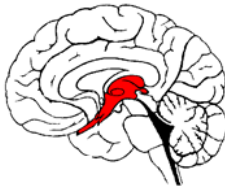
## Kleinhirn (Cerebellum)

Beschreibung / Funktion:



## Zwischenhirn (Diencephalon)

Beschreibung / Funktion:



## Endhirn (Cerebrum, Großhirn, Telencephalon)

Beschreibung / Funktion:

